

ЗАНИМАТЕЛЬНАЯ МАТЕМАТИКА


Здравствуйте! Займёмся математикой!?

1. Сосчитай предметы и укажи их количество (рис.1,2)
2. Закрепим понятия "лево-право". Выполни задания с картинки (ориентируемся на положение ребёнка относительно картинки) (рис.3)
3. "Что сначала, что потом." (рис.4)
4. "Дорожка для Зайки" Посмотри, что встретил заяц на пути и укажи его дорожку.(рис.5)
5. "Ключики" (рис.6)
6. "Рисуем по клеточкам" Графический диктант "Черепаша"(рис.7)
7. "Задание для самых ЛЮБОПЫТНЫХ!!! Раскрась только треугольники, узнай, кто "спрятался" на картинке. (рис.8)



0 3 9

2 1 7



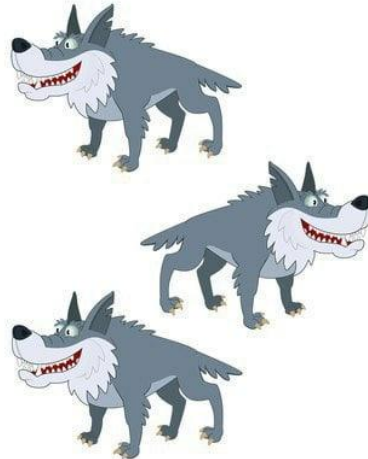
4 8 10



1 5 3



2 7 4



8 6 3



6 2 7



7 1 3

Пространство

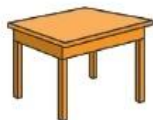
4. Какой предмет находится **справа** от стула? Подчеркни цифру правильного ответа.



1



2



3

5. Какой предмет находится **слева** от девочки? Подчеркни цифру правильного ответа.



1

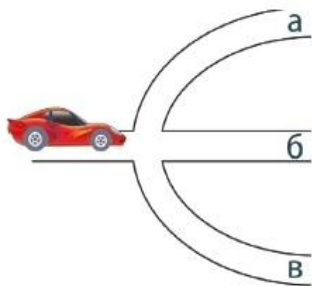


2



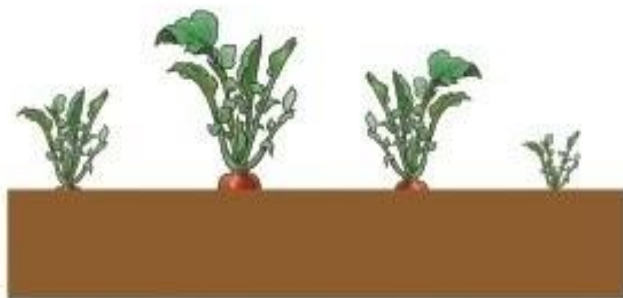
3

6. Машина должна поехать **налево**. Отметь нужный путь. Обведи в кружок букву правильного ответа.



Пространство

3. Выбери редиску, посаженную **раньше** других. Подчеркни букву правильного ответа.




а

б

в

г

4. На какой картинке цветок посажен **позже** других? Подчеркни цифру правильного ответа.






1

2

3

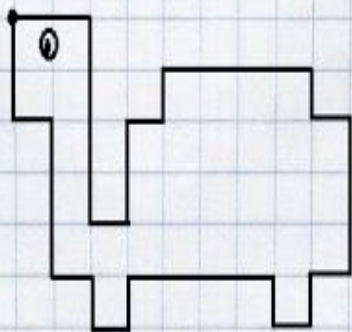
4

- Зайка пошёл домой через лес. Найди схему, на которой встретившиеся на пути зайки предметы изображены в правильной последовательности.



Сможешь найти, какой ключ откроет этот старинный замок? А потом раскрась их!





Графический диктант "Черепаха"

Отступи 5 клеток сверху и 3 клетки слева.

Поставь точку и начинай рисовать.

2 →	4 ↓	1 →	2 ↑	1 →	1 ↑
4 →	1 ↓	1 →	3 ↓	1 ←	1 ↓
1 ←	1 ↑	4 ←	1 ↓	1 ←	1 ↑
1 ←	3 ↑	1 ←	2 ↑		

- Закрась все треугольники — и ты узнаешь, что спрятано на картинке.

